

МИНИСТЕРСТВО НАУКИ И ВЫСШЕГО ОБРАЗОВАНИЯ РФ
ОТКРЫТАЯ РЕГИОНАЛЬНАЯ МЕЖВУЗОВСКАЯ ОЛИМПИАДА 2023-2024
ЗАКЛЮЧИТЕЛЬНЫЙ ЭТАП
ГЕОГРАФИЯ
11 КЛАСС

I. ТЕСТОВЫЕ ЗАДАНИЯ

1. Выберите регион, где произрастают растения-галофиты:

- А) побережье оз.Баскунчак
- Б) Мак-Кинли
- В) Летний берег Белого моря
- Г) Чарские пески

1 балл


2. Выберите субъекты РФ, административные центры которых являются НЕ самыми крупными по численности населения городами своих регионов:

- А) республика Карелия Б) ЯНАО В) Магаданская обл. Г) Ненецкий АО Д) ХМАО

2 балла

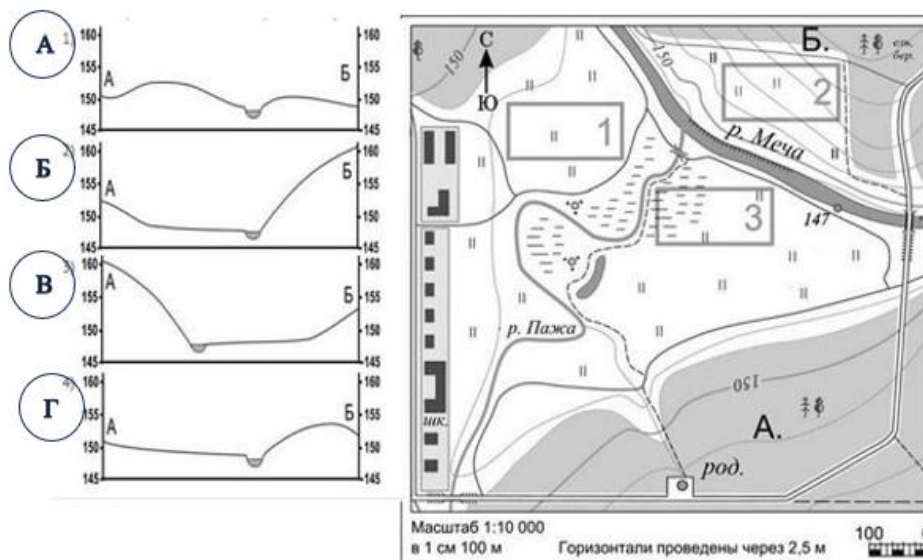
3. На каком фото изображён Канайма?

Канайма – национальный парк Венесуэлы. Он занимает 6 место среди мировых заповедников по площади территории. Парк отличается богатейшей флорой, фауной, уникальным рельефом местности. Через джунгли парка можно пройти только с хорошо заточенным мачете. По всему парку Канаймы среди джунглей возвышаются столовые горы – тепуи, обрывистыми каменными стенами опускаясь к лесам. В парке более 50 тепуи, но самая известная гора Ауян Тепуй с великим водопадом Сальто Анхель высотой 979 м.



2 балла

4. На рисунках слева представлены варианты профиля рельефа местности, построенные на основе карты по линии А—Б. Выберите букву, которой обозначен верный профиль.



3 балла

5. Установите соответствие между государством Латинской Америки и его главными экспортными товарами:

Государство	Главные экспортные товары
1) Бразилия	А) медь (45 %), рений, литий, селитра, йод, рыба (лосось, форель), ягоды (виноград, голубика, авокадо)
2) Чили	Б) нефть (80 %), бокситы, алюминий, кофе
3) Эквадор	В) кофе, трикотаж, бананы, пальмовое масло, сахар, цветы, мускатный орех
4) Венесуэла	Г) сахар, сигары, ром, никель
5) Куба	Д) нефть, бананы, цветы, креветки, какао, кофе, древесина, рыба
6) Гватемала	Е) соя, нефть и нефтепродукты, железная руда, мясо, сахар, кофе, какао, апельсиновый концентрат, ананасы, самолёты
	Ж) картофель, кукуруза, морепродукты

6 баллов

II. РАСЧЁТНЫЕ И АНАЛИТИЧЕСКО-ЛОГИЧЕСКИЕ ЗАДАНИЯ

6. Гнейсы, кварциты, мрамор, скарны, кристаллические сланцы, кремень, роговики. *Объясните,*

- А) что это за названия,
- Б) по какому принципу подобран терминологический ряд,
- В) при каких условиях происходит образование перечисленных элементов этого ряда?

5 баллов

7. *Определите отрасль животноводства по описанию. Ответьте на вопросы.*

Согласно зоологической систематике этот вид домашних животных, входящих в класс млекопитающих, относятся к отряду парнокопытных и семейству полорогих.

Известно, что это сильное и выносливое животное (не смотря на свои маленькие размеры) было одомашнено одним из первых, примерно 10200 лет назад. Животное подходит для выращивания в разных климатических условиях (даже в экстремальных), поэтому имеет самую широкую географию размещения – в настоящее время 197 стран на всех континентах разводят этих животных. В беднейших странах это домашнее животное называют «коровой для бедных», помогающее выжить. Если в развивающихся странах, животное содержат, в основном, в личных подсобных хозяйствах, то в развитых странах – на современных индустриальных комплексах, где достигается самая высокая продуктивность.

Характерной особенностью современной отрасли в мировом масштабе является возрастающее значение всех основных видов продукции (из 6), получаемых из этих животных. Главная цель разведения зависит от традиционных особенностей конкретной страны и региона и определяет выбор породы. По количеству выведенных пород (599) эти животные занимают 5 место. Самая ценная порода – кашмирская – родом из северо-западных районов страны А. Эта порода даёт сырьё для получения кашемира, который очень ценен и распространил по миру легендарный Мухаммед Бабур, основатель династии Великих Моголов.

Мировое производство продукция № 1 (табл.) увеличилось за последние несколько лет на 42 %. 71 % её производства приходится на Азию.

Продукция № 2 (табл.) – это единственный продукт питания, содержащий необходимое количество питательных веществ для нормального роста, развития и функционирования организма детей. Доля продукции 2, получаемой от этих животных от её общемирового производства составляет 2,3 % (а в Европе – 13%). Продукты её переработки становятся всё более популярными в мире. Они воспринимаются потребителями как здоровая еда. Начиная с 2000-х годов, производство продукции № 2 в мире активизировалось, в основном, за счет развитых стран.

С 2018 г. первенство по поголовью овец перешло стране Б – крупнейшей животноводческой державе мира.

Количественные характеристики отрасли в 2018-2020 г.

№ п/п	ТОП- 10 стран по поголовью, млн голов	ТОП- 10 стран по производству продукции № 1, тыс. т	ТОП- 10 стран по производству продукции № 2, тыс. т	ТОП- 10 стран по производству кашемира
1.	Страна Б	Страна Б	Страна А	Монголия
2.	Страна А	Страна А	Бангладеш	Страна Б
3.	Нигерия	Бангладеш	Судан	Непал
4.	Пакистан	Пакистан	Пакистан	Страна А
5.	Бангладеш	Нигерия	Нигерия	Иран
6.	Чад	Судан	Франция	Пакистан
7.	Кения	Франция	Греция	Австралия
8.	Эфиопия	Греция	Турция	Новая Зеландия
9.	Судан	Турция	Испания	
10.	Монголия	Южный Судан	Мали + Южный Судан	
Итого в мире	1128	6100	20600	

Ответьте на вопросы

- 1) Назовите отрасль животноводства и страны А и Б, о которых идёт речь.
- 2) Какие условия наиболее благоприятны для разведения этих домашних животных?
- 3) Почему это животное пользуется популярностью у населения беднейших стран мира?
- 4) Определите виды продукции №1 и 2.
- 5) Вспомните, что ради чего ещё разводят этих животных.
- 6) Что такое кашемир? И почему на нём специализируются указанные страны?
- 7) Какие экологические проблемы возникают при увеличении поголовья этих животных?

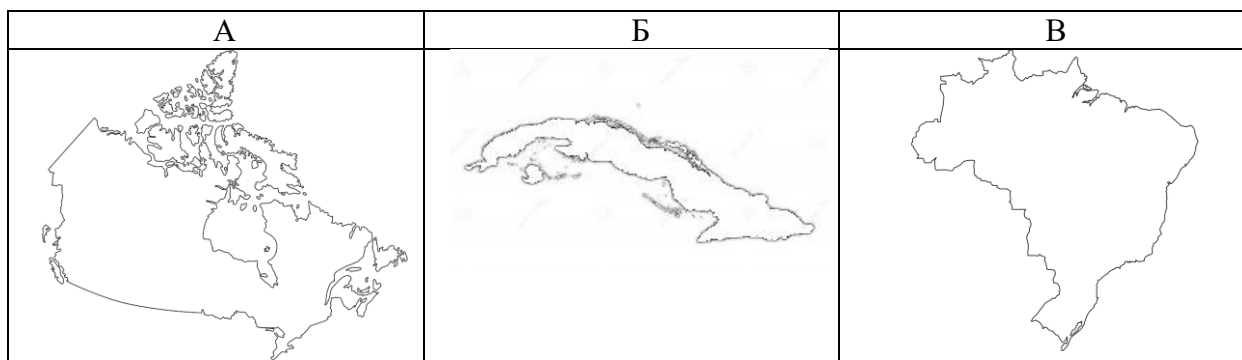
32 балла

8. *Определите три страны по описанию и ответьте на дополнительные вопросы.*

Страны А, Б, В расположены в западном полушарии. Страна А – самая северная из них, В – самая южная. Страны А и Б расположены к северу от экватора, а через страну В проходит экватор. Страны А и В входят в ТОП-10 стран по размерам территории и являются крупнейшими на своих материках.

Также известно, что страна В входит в ТОП-5 стран по численности населения, а страны А и В – выделяются по количеству проживающих коренных этносов и характеризуются миграционным приростом. У всех стран есть и некоторые общие демографические черты – их государственные языки относятся к одной языковой семье, большинство населения этих стран исповедует одну мировую религию. У стран Б.и В похожие агроклиматические условия, поэтому кофе, сахарный тростник и табак – одни из их главных сельскохозяйственных культур и статей внешней торговли. Страна А – в ТОП-10 стран по экспорту пиломатериалов, пеллет и бумаги, алюминия, калийных удобрений, золота, никеля, алмазов.

По уровню социально-экономического развития страна А относится к развитой, Б и В – к развивающимся. По объёму ВВП страны А и В входят в ТОП-10 стран мира, а страна Б занимает 63 место в мировом рейтинге.



Примечание: на рисунке размеры стран не соблюдены, главное – их контуры и ориентация по направлению «север-юг».

Дополнительные вопросы и задания:

- 1) Страны расположены в одной части света, А и Б находятся на одном материке, а страна В – на другом. Страна А является крупнейшей по площади территории на своём материке, а страна В – на своём материке, но обе они входят в ТОП-10 крупнейших стран мира по этому показателю. Назовите страны, часть света и материка.
- 2) Страна А занимает первое место в мире по протяжённости береговой линии и омывается большим количеством морей и океанов. Вспомните и назовите их.
- 3) Страна Б является островным государством, состоящим из 1600 островов. Самый большой из них считается самым крупным в своём архипелаге и занимает 15 место по размерам среди островов мира. Назовите остров и архипелаг, к которому он принадлежит. Какое происхождение имеет остров? Приведите примеры ещё двух любых островов такого же происхождения.
- 4) Этот большой остров был открыт в ходе первой экспедиции, с которой началась эпоха Великих географических открытий. За 300 лет его колониальной истории сведения о природе и населении оставались отрывочными. Первым европейцем, детально описавшим растительный и животный мир острова в 1800-1801 гг., был известный немецкий учёный-натуралист, географ и путешественник, один из основателей географии как самостоятельной науки. Его имя носит крупнейший национальный парк страны Б. О ком идёт речь?
- 5) Страна А входит в Содружество наций, поэтому её форма правления отличается от стран Б и В. Что за форма правления у страны А и кто является её официальной главой?
- 6) Отличия наблюдаются и в государственном устройстве: у стран А и В – оно одинаковое. Какое?
- 7) Все страны в историческом прошлом были колониями европейских держав. Страна В добилась независимости в 1822 г., страна Б – только в 1959 г. от соседней ближайшей материковой страны. Какой?
- 8) В этих странах разные официальные языки. Какие?
- 9) В этих странах проживают и коренные народы. Напишите общее название коренных народов этих стран.
- 10) Размещение населения крайне неравномерное, особенно в странах А и В, в которых плотность населения ниже среднемирового значения. Расположите страны в порядке уменьшения в них плотности населения. Объясните особенности размещения населения страны с наименьшим значением.

49 баллов

**МАКСИМАЛЬНОЕ КОЛИЧЕСТВО БАЛЛОВ ЗА ОЛИМПИАДУ – 100.
ЖЕЛАЕМ ВАМ УДАЧИ!!**