

МИНИСТЕРСТВО НАУКИ И ВЫСШЕГО ОБРАЗОВАНИЯ РФ
ОТКРЫТАЯ РЕГИОНАЛЬНАЯ МЕЖВУЗОВСКАЯ ОЛИМПИАДА 2022-2023
ЗАКЛЮЧИТЕЛЬНЫЙ ТУР
ГЕОГРАФИЯ
11 КЛАСС
1 ВАРИАНТ

I. ТЕСТОВЫЕ ЗАДАНИЯ

1. Определите, для выращивания какой сельскохозяйственной культуры наиболее благоприятны условия субъектов России, отмеченных сине-голубыми оттенками:

- А) пшеницы
- Б) сахарной свёклы
- В) льна-долгунца
- Г) риса



2 балла

2. Установите соответствие: национальный парк – его географический признак:

Название национального парка	Географический признак
1) Йеллоустоунский	А) самый «жаркий»
2) Какаду	Б) самый первый в мире
3) Пантанал	В) самый большой по площади в Австралии
4) Долина смерти	Г) самый «болотистый»

4 балла

3. Выберите объекты, непосредственно относящиеся к акватории и побережью самого маленького по площади моря мира:

- А) минтай
- Б) Остров Мармара
- В) тунец
- Г) Дарданелы
- Д) Азия
- Е) Хальмахера
- Ж) Турция
- З) Израиль
- И) синий кит
- К) Золотой Рог

Запишите буквы, под которыми указаны верные ответы.

6 баллов

4. Выберите верные утверждения:

- А) Архипелаг Внутренние Гебриды не принадлежит Великобритании
- Б) Плотность населения на картах размещения населения изображается способом количественного фона
- В) В лесах Перу обитают эму
- Г) Конурбация и джентрификация являются объектом изучения этнографии
- Д) Бассейн реки Муррей относится к Индийскому океану
- Е) В Китае все регионы живут по времени часового пояса Пекина
- Ж) В горах Южной Сибири могут происходить землетрясения
- З) Болото Пантанал пересекается Южным полярным кругом
- И) Примером азональных ландшафтов являются галерейные леса
- К) Мистраль и бора – это холодные зимние ветры

Запишите буквы, под которыми указаны верные утверждения.

6 баллов

5. Расположите острова в порядке уменьшения солёности омывающих их вод:

- А) Мадагаскар
- Б) Валаам
- В) Бахрейн
- Г) Мадейра

Запишите получившуюся последовательность букв.

8 баллов

II. РАСЧЁТНЫЕ И АНАЛИТИЧЕСКО-ЛОГИЧЕСКИЕ ЗАДАНИЯ

6. Перед вами перечень городов: Кортина д'Ампеццо, Куршевель, Санкт-Мориц, Сочи (Красная поляна), Шамони-Монблан.

Что общего у этих городов? Найдите «лишний» город, обосновав ответ.

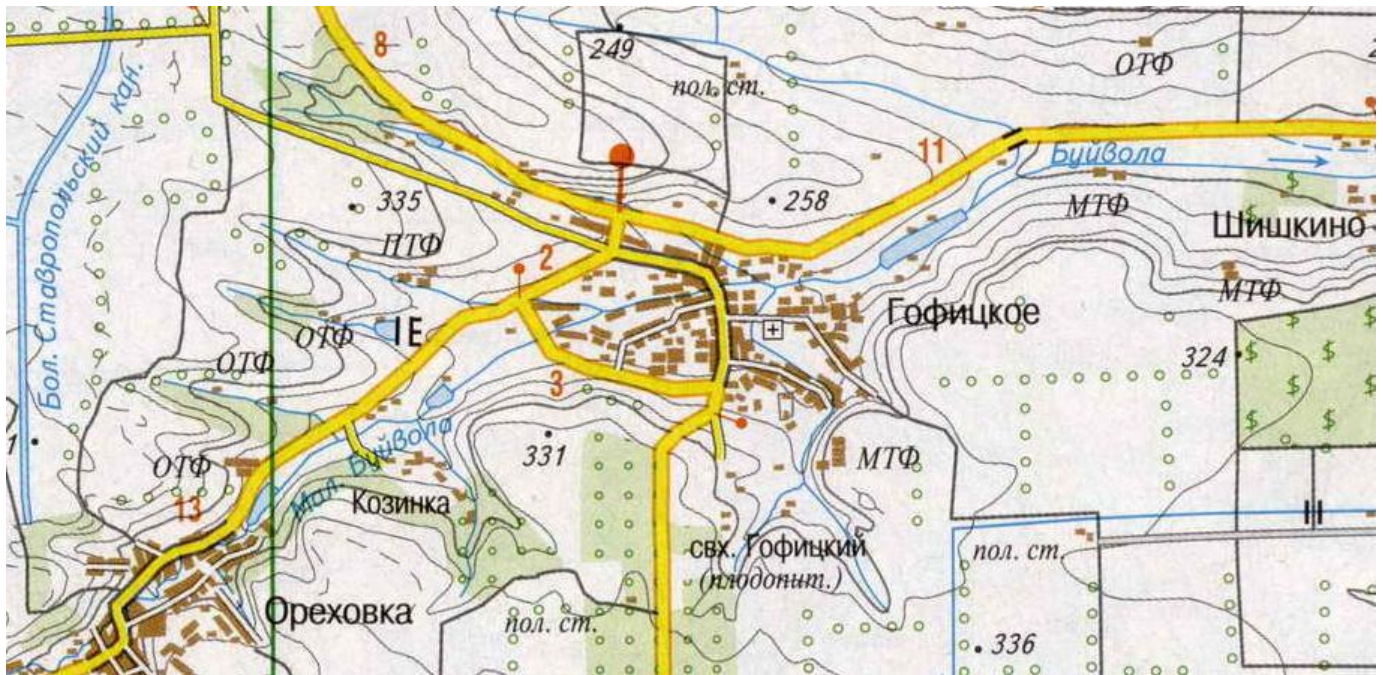
Какие крупные международные одинаковые события (мероприятия) проходили в окрестностях этих городов?

7 баллов

7. Выполните задания, используя фрагмент топографической карты.

- 1) Определите масштаб карты, если известно, что длина стороны квадрата на километровой сетке на карте составляет 2 см, а длина стороны квадрата на местности – 4 км. Ответ запишите в виде численного масштаба.
- 2) Определите высшую абсолютную точку в пределах карты.
- 3) Горная это территория или равнинная?
- 4) Какие виды дорог есть на этой территории?
- 5) В пределах какой природной зоны находится территория, изображённая на фрагменте топографической карты?
- 6) В пределах какого субъекта России расположена территория, представленная на данном фрагменте топографической карты?
- 7) Какие отрасли сельского хозяйства здесь получили развитие? Перечислите все возможные отрасли и производства.
- 8) В чём уникальность географического положения населённого пункта Гофицкое?
- 9) Что обозначает условный знак –





13 баллов

8. Определите страну по описанию. Вместо цифр в скобках запишите необходимые слова или объяснения в чистовик.

Эта страна (1) входит в ТОП-10 стран мира по численности населения и в ТОП-15 по площади территории. Эта унитарная республика является перспективной развивающейся аграрно-индустриальной страной. Добывающая промышленность представлена добычей нефти, газа и каменного угля, а также заготовкой ценной древесины.

Первые европейцы попали в эту страну в начале XVI века, ввергнув её в колониальную зависимость, длившуюся до середины XX в. Контроль над ней в течение нескольких веков устанавливали разные европейские державы (2). Борьба между ними за это государство велась из-за ценного и специфического товара (3), которое и сейчас является статьёй экспорта.

Пути многих известных мореплавателей (В.Янсзон, А.Тасман и др.) проходили через территорию данной страны. Вот и маршрут первой экспедиции выдающегося английского путешественника (4), отмеченный на рис. 2 линией красного цвета, пролегал в её территориальных водах. Его корабль заходил в главный порт этой страны, где многие матросы заразились малярией. Как в настоящее время называется главный порт (5) этой страны, который во времена путешествия имел другое название? Этот порт пока ещё является столицей, но в 2022 г. правительство приняло решение о переносе столицы в новый город (на 2000 км восточнее), который будут строить с нуля.

Это полиэтничная страна. На банкноте (рис.1) изображены дети в национальных костюмах народов, населяющих страну, и космический спутник, запущенный в 2018 г. Один из пяти её крупнейших народов (6) загадан в ребусе на рис.3. К какой языковой семье (7) относится 90 % населения страны, в т.ч отгаданный вами этнос? Какая религия (8) получила наибольшее распространение среди населения страны?


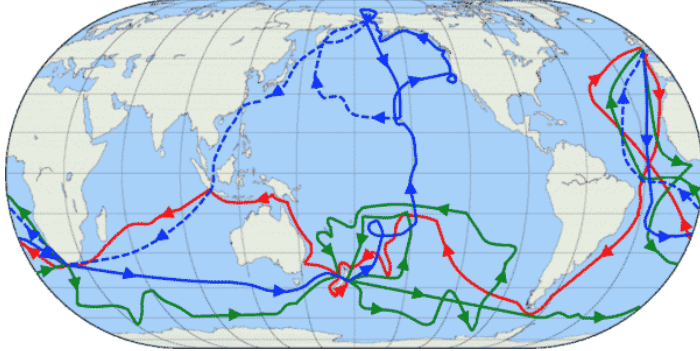


Природа этого государства очень самобытна, разнообразна и уникальна. Например, самое глубокое и большое озеро страны (9), является также крупнейшим озером (10) происхождения в мире.

Часто на национальных денежных знаках изображаются известные общественные деятели, национальные символы, самобытная культура, представители растительного и животного мира. Объясните, почему на банкноту (рис. 4) попало это животное и расскажите более подробно про него (11).

В любой стране возникают проблемы, требующие решения. Какие природные бедствия (12) создают почти ежегодно чрезвычайные ситуации в стране?

Охарактеризуйте самые острые экологические проблемы, причины их возникновения и последствия в данной стране (13).

Загаданная страна относится к ТОП-15 государств, насчитывающих наибольшее количество климатических мигрантов. Объясните, кто такие «климатические мигранты» (14) и какие причины (15) способствуют их появлению в данной стране? К каким последствиям (16) для страны приводят эти процессы и события?

Рис. 1	
Рис. 2	
Рис.3*	
Рис. 4	

*Примечание. Правила чтения ребуса: ребус читается слева направо; запятые обозначают количество букв слова, которые нужно отбросить, а вид запятой – место, откуда они убираются (прямые запятые – в начале слова, перевернутые запятые – в его конце); зачёркнутая буква или цифра возле рисунка обозначает её исключение из названия предмета; цифра со знаком равенства под рисунком обозначает её замену на указанную в равенстве букву (буквы).

54 балла

**МАКСИМАЛЬНОЕ КОЛИЧЕСТВО БАЛЛОВ ЗА ОЛИМПИАДУ – 100.
ЖЕЛАЕМ ВАМ УДАЧИ!**